

Welke van de onderstaande structuren maakt spiercontractie mogelijk?

<A> Microtubuli

<B> Microfilamenten

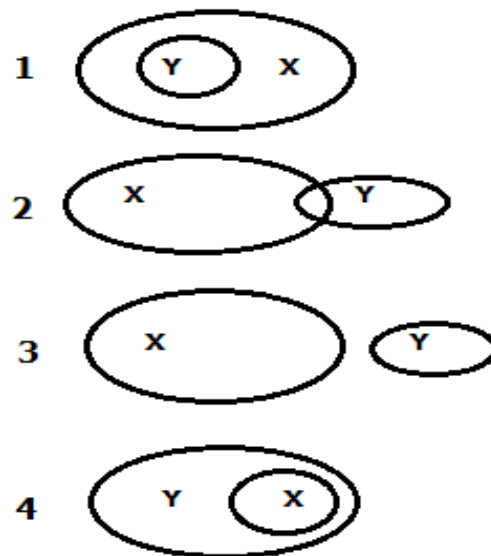
<C> Intermediaire filamenten

<D> Microvilli

Welke van de onderstaande beweringen over sachariden is juist?

- <A> Disachariden worden gevormd door een condensatiereactie van twee monosachariden.
- <B> Zetmeel is een polysacharide dat aanwezig is in de celmembraan van dierlijke cellen.
- <C> Zetmeel is een polysacharide dat aanwezig is in de celwand van plantaardige cellen.
- <D> Bij de hydrolysereactie van een disacharide ontstaan water en twee monosachariden.

De relatie tussen de verzameling van genen op het Y-chromosoom en de verzameling van genen op het X-chromosoom bij de mens wordt het best weergegeven door:



<A> 1

<B> 2

<C> 3

<D> 4

De onderstaande uitspraken, aangegeven door Romeinse cijfers, verwijzen al dan niet naar één van de fasen van meiose 1 aangegeven met Arabische cijfers.

- I. De kernmembraan verdwijnt.
- II. De chromosomen liggen gepaard in het evenaarsvlak.
- III. Het chromatine condenseert tot verschillende chromosomen.
- IV. De zusterchromatiden bewegen elk naar een verschillende pool.
- V. Replicatie van DNA.

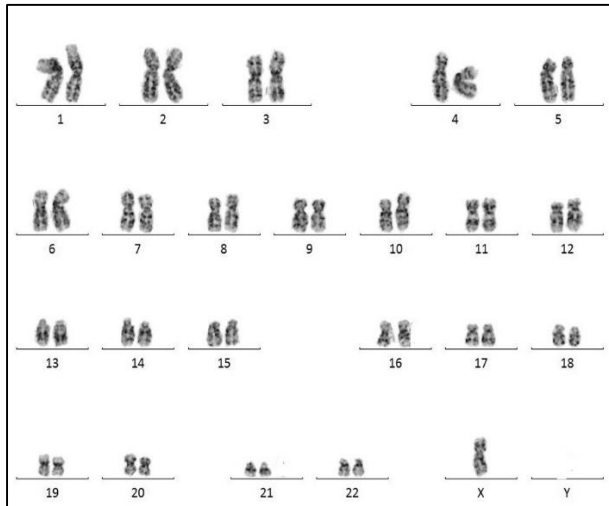
- 1. Profase
- 2. Metafase
- 3. Anafase
- 4. Telofase
- 5. Niet van toepassing

Koppel elke uitspraak aan het juiste Arabische cijfer.

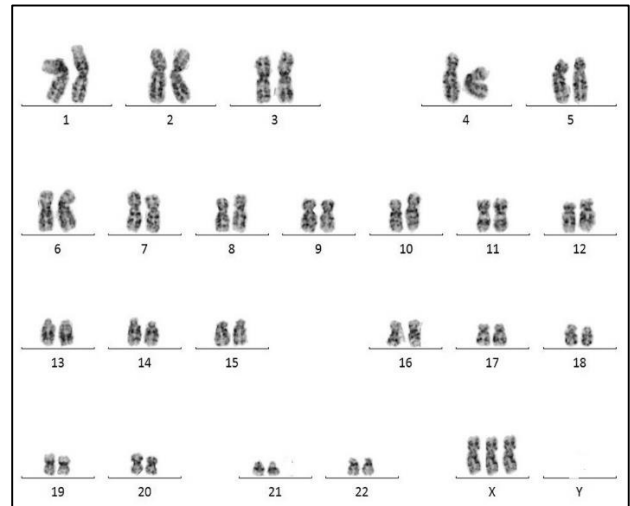
|     | <u>I</u> | <u>II</u> | <u>III</u> | <u>IV</u> | <u>V</u> |
|-----|----------|-----------|------------|-----------|----------|
| <A> | 1        | 2         | 5          | 3         | 5        |
| <B> | 4        | 5         | 1          | 3         | 4        |
| <C> | 1        | 2         | 1          | 5         | 5        |
| <D> | 1        | 5         | 3          | 4         | 1        |

Hieronder de karyogrammen van een ééneiige tweeling. Omwille van één fout in een kerndeling zijn ze afwijkend van een normaal vrouwelijk karyogram.

karyogram kind 1



karyogram kind 2



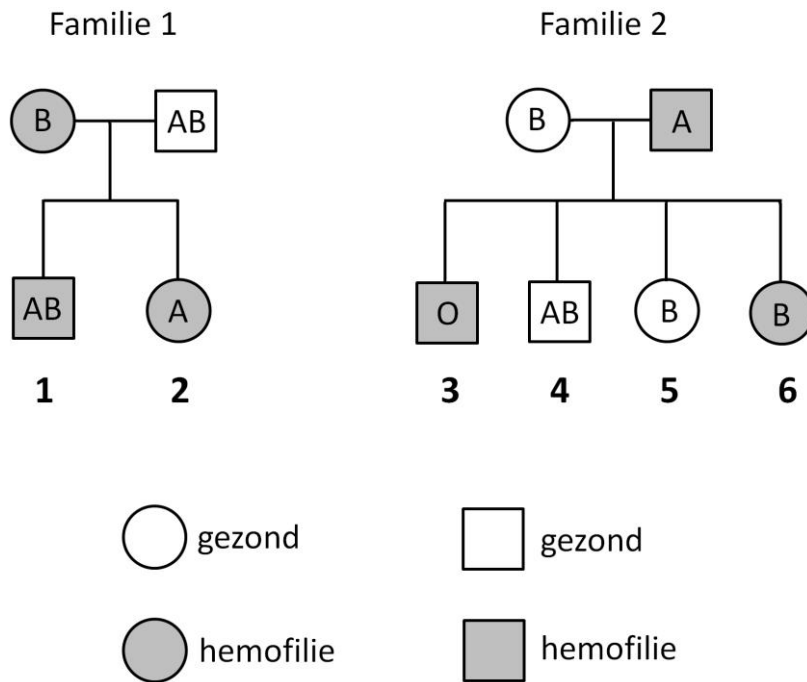
Mogelijke fouten zijn:

1. een fout in meiose I van de eicel;
2. een fout in meiose I van de zaadcel;
3. een fout in meiose II van de eicel;
4. een fout in de eerste mitose van de zygote.

Welke fout kan hebben geleid tot het ontstaan van deze bijzondere tweeling?

- <A> Alleen fout 1
- <B> Alleen fout 2
- <C> Alleen fout 3
- <D> Alleen fout 4

Onderstaande stambomen geven de overerving van de bloedgroepen bij 2 families. In deze families komen ook individuen voor die lijden aan hemofilie, een recessief X-gebonden erfelijke afwijking. Deze individuen zijn in de stamboom in het grijs aangeduid.



Op een bepaald moment komt uit dat onmiddellijk na de geboorte een verwisseling van baby's is gebeurd.

Over welke baby's gaat het?

<A> Baby's 1 en 3

<B> Baby's 2 en 6

<C> Baby's 2 en 5

<D> Baby's 1 en 5

Bij de kruising van twee witte bloemen wordt een fenotypisch 100% uniform gekleurde, niet-witte  $F_1$  verkregen. Bij verder kruisen met individuen van deze  $F_1$  wordt bij de  $F_2$  een verhouding van negen planten met gekleurde en zeven planten met witte bloemen waargenomen. Welk van de onderstaande kruisingen beschrijft die van de witbloemige ouders die de  $F_1$  produceerden?

Opmerking: hoofdletter = dominant, kleine letter = recessief

<A> AAbb X aaBB

<B> aabb X Aabb

<C> AaBb X AaBb

<D> aaBb X Aabb

Gegeven: 4 verschillende soorten van gegevens:

- 1: Data over fossielen
- 2: Moleculaire data
- 3: Data uit anatomisch onderzoek
- 4: Gegevens over de geografische verspreiding van soorten

Welke van bovenstaande data/waarnemingen hanteerde Darwin als bewijs voor het ondersteunen van zijn theorie?

<A> 1 en 3

<B> 1, 2 en 3

<C> 1, 3 en 4

<D> 2, 3 en 4



De volgende processen doen zich voor tijdens de embryonale ontwikkeling: vorming van de blastocyst - klievingsdeling - gastrulatie - vorming van de morula - aanleg van de kieuwbogen.

Kies het antwoord waarin de processen in de juiste chronologische volgorde staan.

- <A> Klievingsdeling - vorming van de morula - vorming van de blastocyst - gastrulatie - aanleg van de kieuwbogen
- <B> Vorming van de morula - klievingsdeling - aanleg van de kieuwbogen - vorming van de blastocyst - gastrulatie
- <C> Vorming van de blastocyst - klievingsdeling - vorming van de morula - aanleg van de kieuwbogen - gastrulatie
- <D> Klievingsdeling - vorming van de morula - aanleg van de kieuwbogen - gastrulatie - vorming van de blastocyst

Wanneer een antigeen S wordt toegediend, zullen B-lymfocyten één bepaalde antistof aanmaken. Men kan een dergelijke B-lymfocyt met behulp van weefselkweek kloneren. Na toediening van antigeen S gaan alle cellen van deze kloon anti-S aanmaken.

Kan deze anti-S worden toegepast voor actieve immunisatie?

En voor passieve immunisatie?

- <A> Alleen voor actieve immunisatie
- <B> Alleen voor passieve immunisatie
- <C> Zowel voor actieve als voor passieve immunisatie
- <D> Voor geen van beide typen immunisatie

Welke processen doen zich voor tijdens de lichtafhankelijke reacties van de fotosynthese?

- <A> Splitsing van  $H_2O$ , synthese van ATP, reductie van NADPH, vorming van  $O_2$ , oxidatie van  $CO_2$
- <B> Oxidatie van  $H_2O$ , reductie van  $NADP^+$ , fosforylering van ADP, reductie van  $O_2$
- <C> Oxidatie van  $H_2O$ , synthese van ATP, reductie van NADPH, vorming van glucose
- <D> Splitsing van  $H_2O$ , reductie van  $NADP^+$ , synthese van ATP, vorming van  $O_2$

De genetische code wordt gedefinieerd op basis van een serie van ..... (a)  
in ..... (b):

<A> codons (a), rRNA (b)

<B> anticodons (a), tRNA (b)

<C> codons (a), mRNA (b)

<D> anticodons (a), mRNA (b)

Incontinentia pigmenti is een X-gebonden dominante erfelijke huidaandoening. Bij mannelijke vruchten leidt deze aandoening bijna altijd tot de dood tijdens de zwangerschap. Meisjes die de mutatie dragen, worden geboren en ontwikkelen de ziekte. Toch is de aandoening ook uitzonderlijk bij enkele jongens beschreven.

Over deze ziekte volgen enkele uitspraken:

1. Jongetjes hebben maar 1 X-chromosoom en overlijden voor de geboorte als alle cellen het afwijkende gen bevatten.
2. Er zijn enkele jongens met de aandoening beschreven. Dit kan doordat een mozaïek van cellen aanwezig is wanneer na de eerste celdelingen één cel in het embryo nog muteert.
3. De aandoening komt voor bij jongens met het Klinefelter syndroom (47, XXY).
4. Bij meisjes, drager van het gen voor de aandoening, wordt één van beide X-chromosomen uitgeschakeld, zodat een deel van de cellen een normaal gen gebruikt.

Welke uitspraak is of welke uitspraken zijn juist?

- <A> Alle uitspraken zijn juist.
- <B> Enkel uitspraken 1 en 2 zijn juist.
- <C> Enkel uitspraken 1, 2 en 3 zijn juist.
- <D> Enkel uitspraken 2 en 4 zijn juist.

Diane en Mark proberen al 2 jaar om zwanger te worden, tevergeefs. Ze besluiten hulp te zoeken bij hun huisarts die hen doorverwijst naar een vruchtbaarheidsspecialist. Diane en Mark worden elk onderworpen aan een reeks onderzoeken om de oorzaak van hun onvruchtbaarheid te bepalen. Hieruit blijkt dat de spermatozoïden van Mark onvoldoende beweeglijk zijn. Ondanks een schijnbaar normale menstruatiecyclus blijkt bovendien dat Diane niet ovuleert.

Welke is de meest geschikte vruchtbaarheidstechniek die aan dit koppel kan worden geadviseerd?

- <A> Intra-uteriene inseminatie (= kunstmatige bevruchting) met sperma van Mark
- <B> Intra-uteriene inseminatie met donorsperma
- <C> In-vitrofertilisatie met injectie van een zaadcel van Mark in elke eicel van Diane (= intracytoplasmatische sperma-injectie)
- <D> In-vitrofertilisatie met toevoeging van de zaadcellen van Mark aan het schaalpje met eicellen van Diane

Een 'polymerase chain reaction' (PCR) wordt over 20 cycli uitgevoerd. Welke bewering over deze PCR is juist?

- <A> DNA-moleculen worden vermeerderd - het aantal ongewenste DNA-fragmenten neemt af.
- <B> DNA-moleculen worden vermeerderd - het percentage aan ongewenste DNA-fragmenten neemt af.
- <C> DNA-moleculen worden verdubbeld - de polymerisatiefase volgt op de denaturatiefase.
- <D> DNA-moleculen worden verdubbeld - de renaturatiefase volgt op de denaturatiefase.